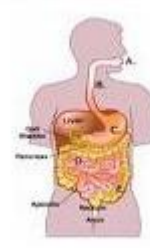
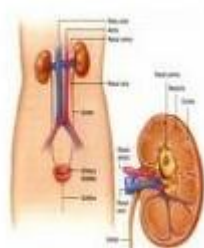
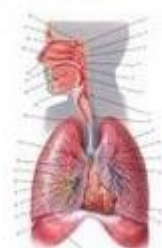


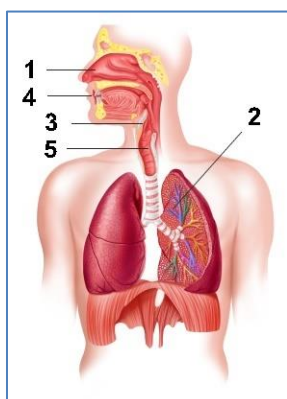
Име: ..... Дата: .....

### Биология

1. Науката, която се занимава с изучаването на тъканите, се нарича:
  - a. Хистология
  - b. Биология
  - c. Дерматология
2. Тъкан наричаме:
  - a. Материя съставена от клетки
  - b. Материя, съставена от клетки със сходен строеж и функции
  - c. Материя, съставена от атоми със сходен строеж и функции
3. Видовете тъкани са:
  - a. Епителна, мускулна, съединителна
  - b. Епителна, нервна, мускулна, съединителна
  - c. Епителна, нервна, мускулна
4. Мускулната тъкан е изградена от:
  - a. Белтъци
  - b. Мускулни влакна
  - c. Кръвоносни съдове
5. Напишете под изображенията правилните названия на част от системите в човешкия организъм: *сърдечно-съдова, отделителна, храносмилателна, дихателна*



- .....
6. Като използвате схемата на дихателната система, срещу названията на органите напишете съответните цифри



Бели дробове .....

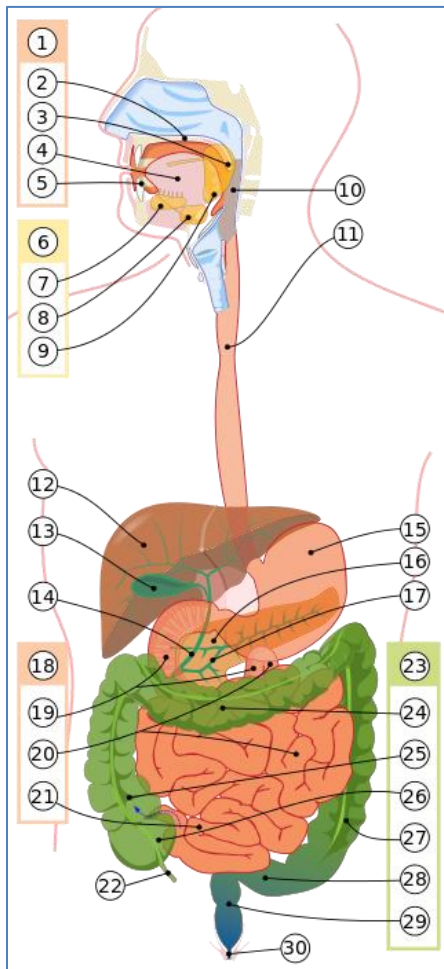
Гръклян .....

Трахея .....

Нос .....

Устна кухина .....

7. Като използвате схемата, напишете срещу названията на органите съответните цифри.



Устна кухина .....

Език .....

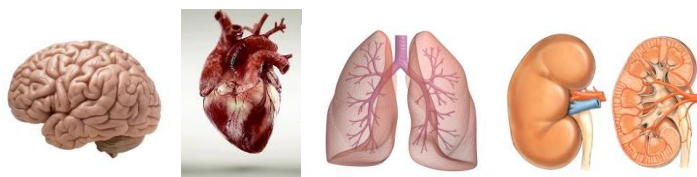
Хранопровод .....

Черен дроб .....

Стомах .....

Тънко черво .....

8. Напишете названията на частите на човешкото тяло под изображенията.



.....

Ресурсен учител: .....

