

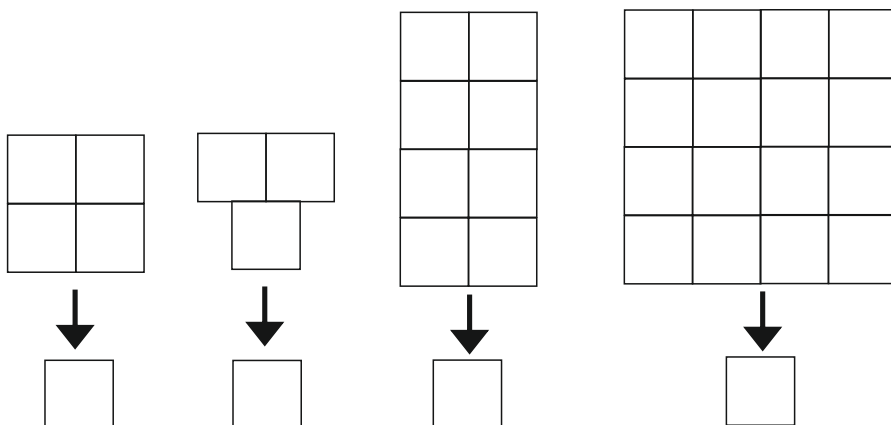
Тест
Числата до 20

1. Напишете пропуснатите числа:

1	2		4			7		9	
---	---	--	---	--	--	---	--	---	--

5			8			11
---	--	--	---	--	--	----

2. Преброй квадратчетата и напиши числото:



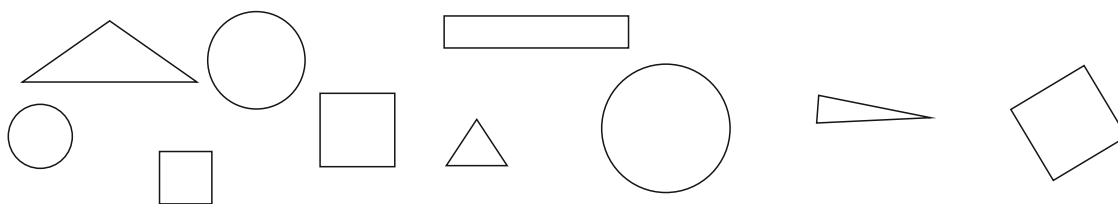
3. Сравни числата. Постави знаците $<$, $=$, $>$

5 <input type="text"/> 7	18 <input type="text"/> 12	12 <input type="text"/> 20
8 <input type="text"/> 10	13 <input type="text"/> 13	15 <input type="text"/> 14

4. Извърши действията:

$4+3=$	$7-5=$	$16+2=$	$9+2=$	$18-12=$
$7+2=$	$8-2=$	$11+5=$	$8+7=$	$16-15=$
$1+8=$	$9-8=$	$10+4=$	$18-4=$	$12-4=$
$2+4=$	$10-6=$	$17+3=$	$16-5=$	$16-9=$
$8+2=$	$6-6=$	$4+13=$	$17-7=$	$20-8=$
				$20-16=$

5. Преброй и напиши броя на фигурите според вида им.



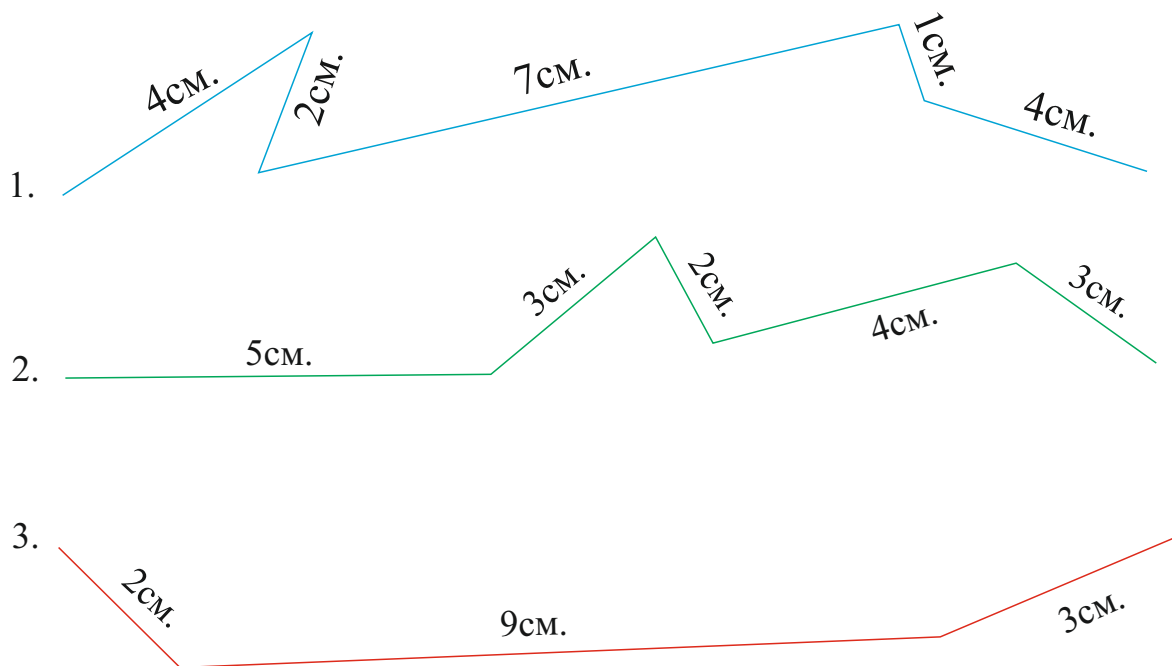
а) триъгълник:

б) квадрат:

в) правоъгълник:

г) кръг:

6. Кой път е най-къс?



1. _____

2. _____

3. _____